

Составление задач по рисунку



Составные части задачи

ответ


решение

схема

вопрос

условие

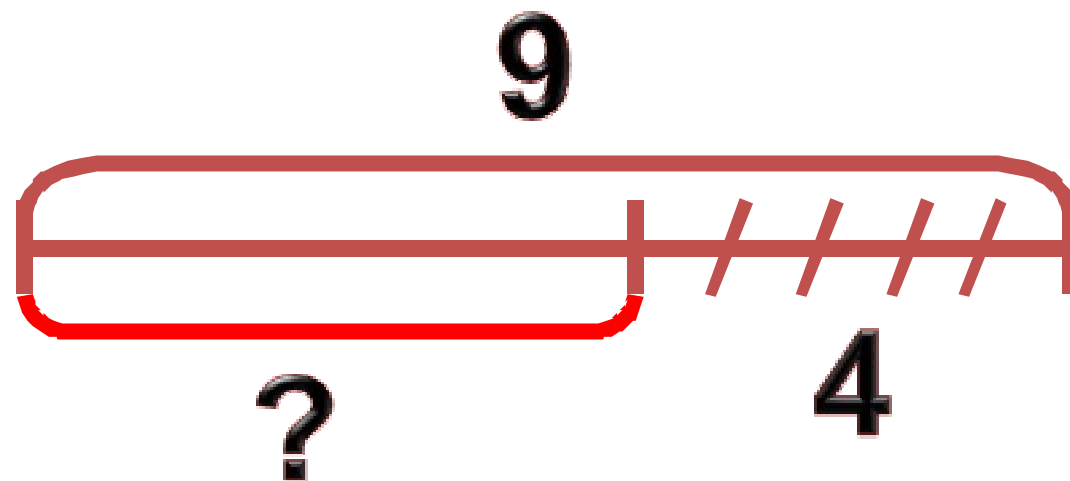
Составь по схеме задачу



?




Составь по схеме задачу



1. Составь задачи по каждой картинке и реши их. Прочитай решение и ответ.


1)



$$\square + \square = \square$$

$$\square - \square = \square$$

2)




$$\square + \square = \square$$

$$\square - \square = \square$$



3)



$$\square + \square = \square$$

$$\square - \square = \square$$

4)



$$\square + \square = \square$$

$$\square - \square = \square$$



Работа в тетрадке

2. Выполни сложение и вычитание.



$$\begin{array}{r} 3 + 2 \\ 5 - 2 \end{array}$$






$$\begin{array}{r} 4 + 2 \\ 6 - 2 \end{array}$$



$$\begin{array}{r} 5 + 2 \\ 7 - 2 \end{array}$$




3. Прибавляй по 2.





$$2 + 2 + 2 = \square$$

4. Вычитай по 2.



$$10 - 2 - 2 = \square$$

**Мы ногами топ-топ,
Мы руками хлоп-хлоп,
А потом прыг-скок
А потом вприсядку,
И опять вприсядку,
Побежим мы по дорожке
Раз, два, три!
И похлопаем в ладошки
Раз, два, три!
И покрутим головами
Раз, два, три!
Все танцуйте вместе с нами
Раз, два, три!**





М.И. Моро С.И. Волкова



Математика

Рабочая тетрадь

Часть 1

1



По каждой схеме составь задачу и реши её.

1)  *Ответ:*

2)  *Ответ:*

Дополни условие и реши задачу:

У Юры было машинок. Ему подарили ещё 2 машинки. Сколько машинок стало у Юры?

Ответ:

<input type="checkbox"/>	$6 + \quad = 8$	$\quad + 2 = 6$	$9 - \quad = 0$
	$\quad - 2 = 7$	$\quad - 2 = 5$	$\quad + 4 = 4$

Дима вырезал из бумаги 2 снежинки, и Лена вырезала столько же. Сколько всего снежинок вырезали Дима и Лена?

Нарисуй схему и реши задачу.

Ответ:



Соедини точки по линейке, чтобы получились четырёхугольник и ломаная из трёх звеньев.



● По каждой схеме составь задачу и реши её.

1)   Ответ:

2)   Ответ:


● Дополни условие и реши задачу:

У Юры было машинок. Ему подарили ещё 2 машинки. Сколько машинок стало у Юры?


 Ответ:

●


	6+		=	8			+ 2 =	6			9 -		=	0		
			- 2 =	7			- 2 =	5			+ 4 =	4				



- Я умею сам



**- Я умею, но не
уверен**



- Нужна помощь

